

さんすう

かけ算 10

1のだんの九九



なまえ

ステップ 1

① 1のたんの九九をつくる。

10 - 1 ~ 3

ステップ 2

① 1のたんの九九をおぼえる。

10 - 4 ~ 7

ステップ 3

① ぜんぶの数をみつける。

10 - 8

ステップ 4

① ぶんしょうだいをとく。

10 - 9










② もんだいぶんをつくる。

10 - 10

※ カード

10 - 11

1だいに 1人のるじてんしゃで 1のだんの九九をつくろう。

	たし算で 九九の こたえを みつける。	九九
1だいぶん	 	$1 \times 1 =$
2だいぶん	 +	$1 \times 2 =$
3だいぶん	 	$1 \times 3 =$
4だいぶん	 	$1 \times 4 =$
5だいぶん	 	$1 \times 5 =$
6だいぶん	 	$1 \times 6 =$
7だいぶん	 	$1 \times 7 =$
8だいぶん	 	$1 \times 8 =$
9だいぶん	 	$1 \times 9 =$

えをはって 1のだんの九九をつくろう。(10-11ページのカード)

	1のだんの九九
	$1 \times 1 =$
	<input type="text"/>
	ふえる
	<input type="text"/>
	ふえる
	<input type="text"/>
	ふえる
	<input type="text"/>
	ふえる
	<input type="text"/>
	ふえる
	<input type="text"/>
	ふえる
	<input type="text"/>
	ふえる



1のだんの九九を かきましょう。

かけるかず

かけられるかず

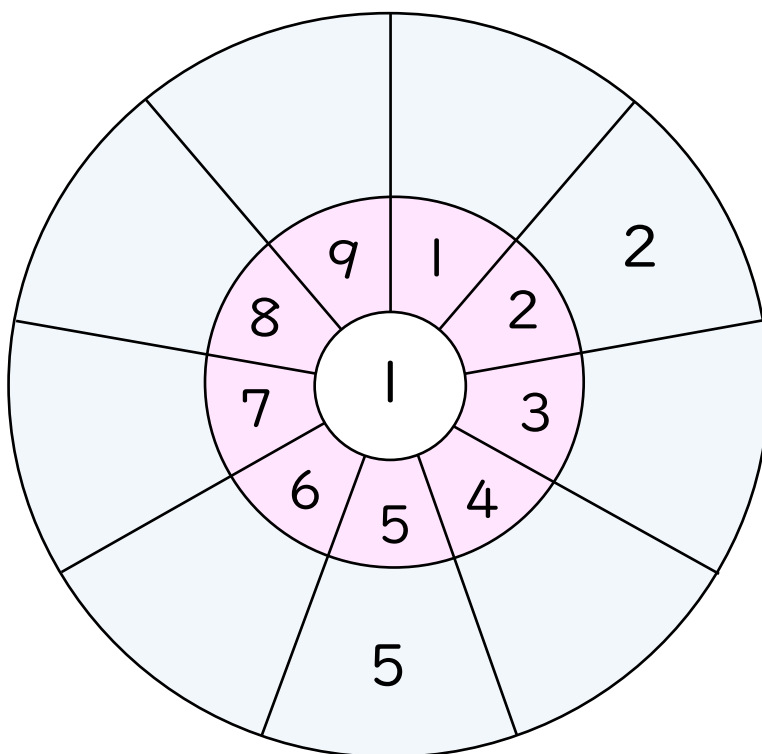
	1	2	3	4	5	6	7	8	9
1	○	○	○	○	○	○	○	○	○
1 × 1									
1									

1. 1のだんの九九を おぼえましょう。

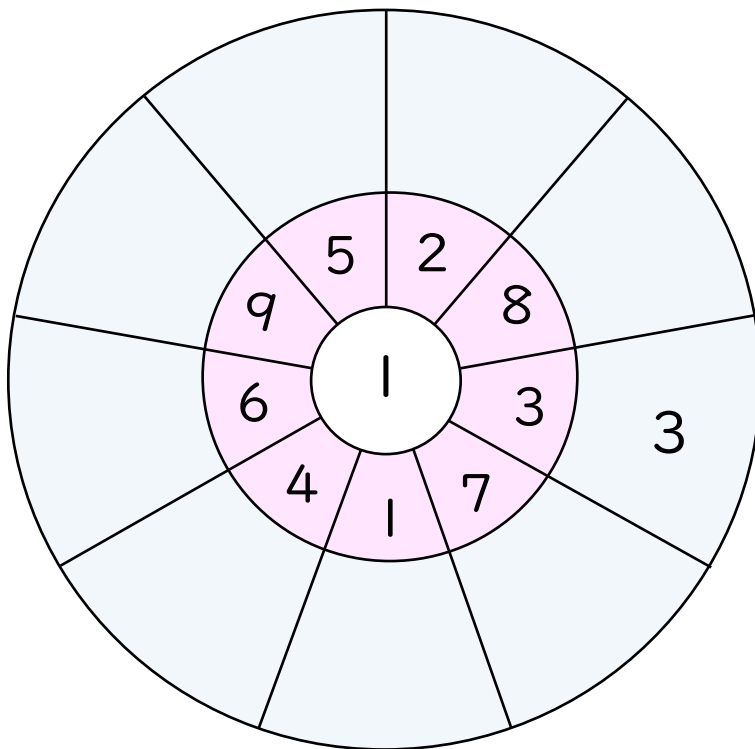
1のだんの九九

いんいち 一が	いち 1	$1 \times 1 =$
いんに 二が	に 2	$1 \times 2 =$
いんさん 三が	さん 3	$1 \times 3 =$
いんし 四が	し 4	$1 \times 4 =$
いんご 五が	ご 5	$1 \times 5 =$
いんろく 六が	ろく 6	$1 \times 6 =$
いんしち 七が	しち 7	$1 \times 7 =$
いんはち 八が	はち 8	$1 \times 8 =$
いんく 九が	く 9	$1 \times 9 =$

2. まんなかのかずに、まわりのかずをかけたこたえを かきましょう。



1. まんなかのかずに、まわりのかずをかけたこたえをかきましょう。



2. しきをよんで、□にこたえをかきましょう。

$1 \times 4 = \square$

$1 \times 2 = \square$

$1 \times 7 = \square$

$1 \times 5 = \square$

$1 \times 6 = \square$

$1 \times 8 = \square$

$1 \times 3 = \square$

$1 \times 9 = \square$

$1 \times 8 = \square$

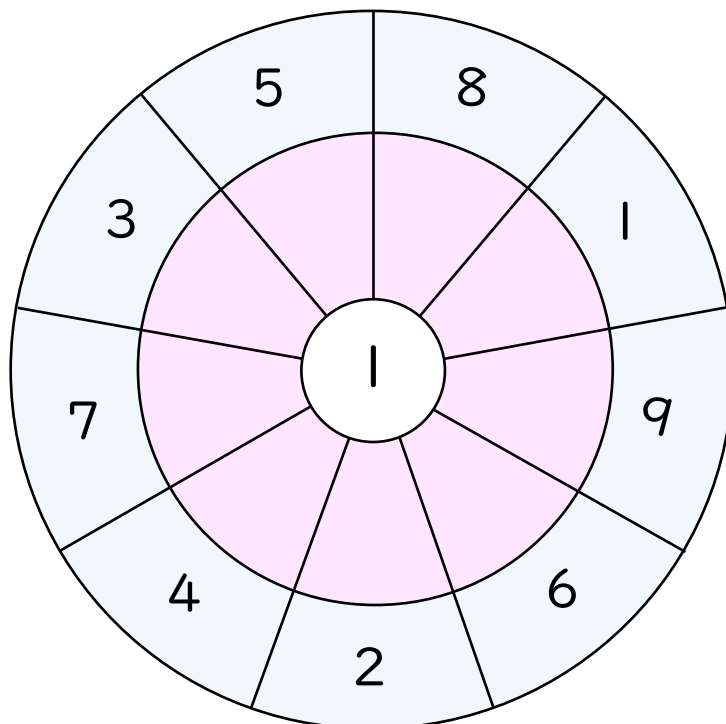
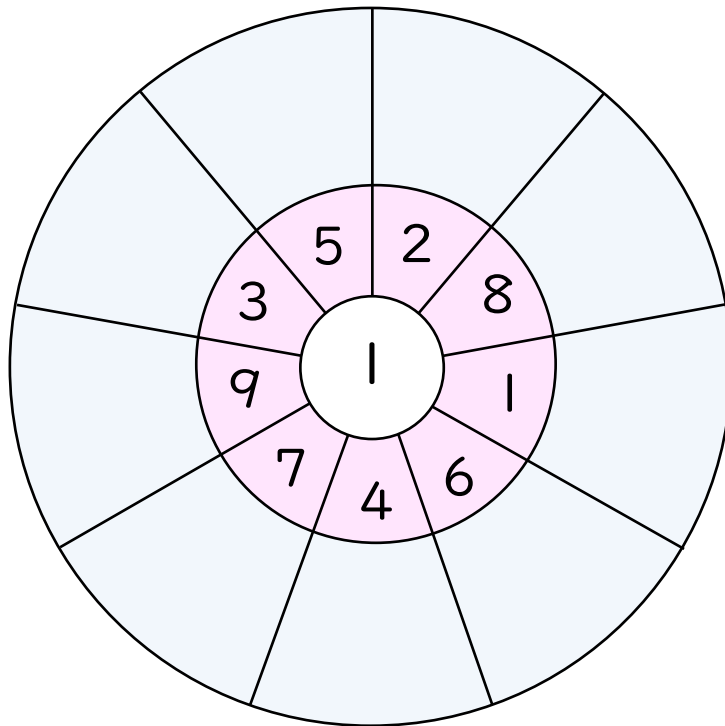
$1 \times 4 = \square$

まんなかのすうじは、かけられるかずです。

あいだのすうじは、かけるかずです。

そとがわは、九九のこたえです。

あいているところに すうじをかきましょう。

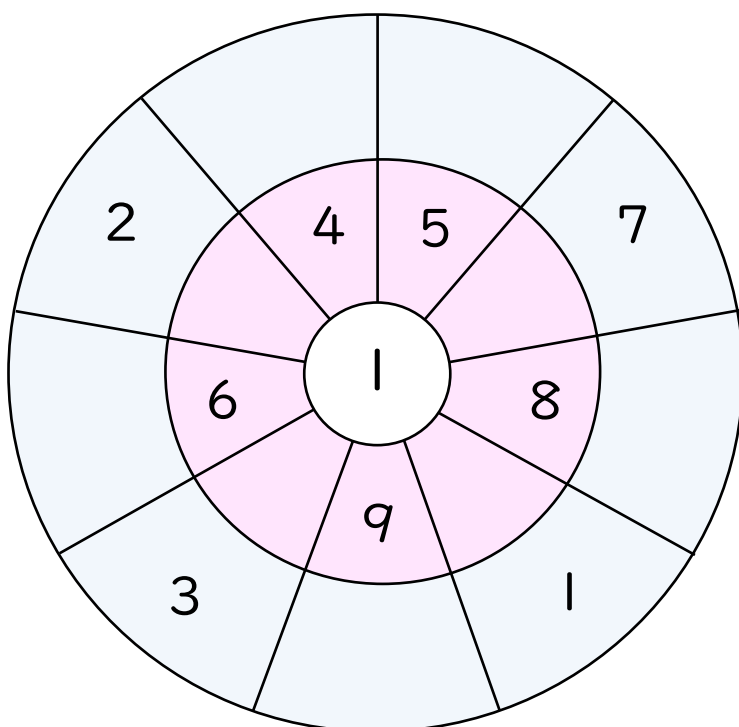
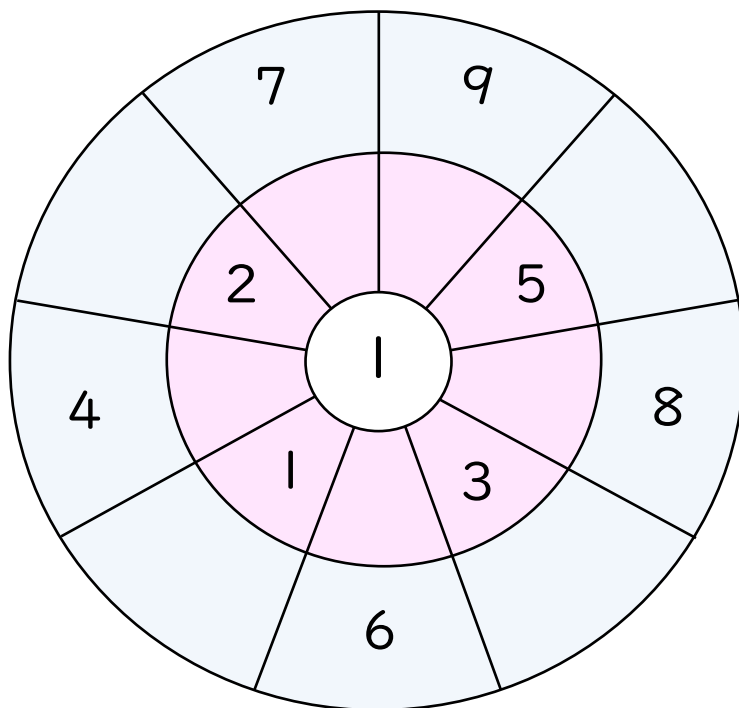


まんなかのすうじは、かけられるかずです。





あいだのすうじは、かけるかずです。

そとがわは、九九のこたえです。

あいているところに すうじをかきましょう。




ぜんぶのかずを かけ算のしきで あらわしましょう。



1. 1はこに 1こずつのドーナツが 7はこあります。

ドーナツは ぜんぶでなんこありますか。



わかっていること

たずねていること

しき [] ことえ []

2. 子どもが じてんしゃにのっています。

じてんしゃは 5だいあります。

のっている子どもは、みんなでなん人ですか。



わかっていること

たずねていること

しき [] ことえ []

しきにあうように えをはりましょう。

ことばをかいて もんだいをつくりましょう。

① 1×8 え

もんだい

ドーナツが、1はこに

ドーナツは、

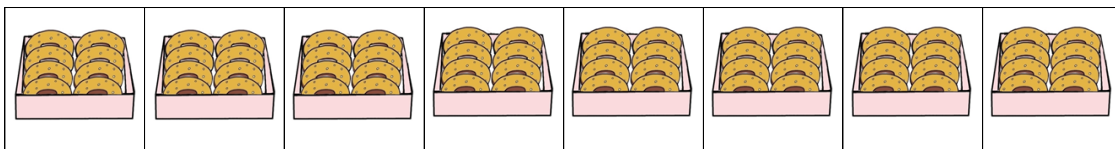

② 8×1 え

もんだい

ドーナツが、1はこに

ドーナツは、

キ リ ト リ



かけ算10 (1のだんの九九)

10 - 2 ページ

